

Valda uppgifter i kursboken Matematik M3c av Sjunnesson med flera utgiven på Liber, (2012).

Test 3 1
 Blandade uppgifter 7

3114. Skriv om linjerna på formen $y = kx + m$, dvs $3y = -2x + 9 \Leftrightarrow y = -\frac{2}{3}x + 3$ och $y = \frac{p(p-2)}{2}x$. För att linjerna skall vara vinkelräta krävs att $k_1k_2 = -1$ dvs $\frac{p(p-2)}{2} \cdot \frac{2}{3} = -1 \Rightarrow$

$$p^2 - 2p - 3 = 0 \Rightarrow p = 1 \pm \sqrt{1^2 + 3} = \begin{cases} 3 \\ -1 \end{cases}$$

3115. Från punkten $(-1, -5)$ till punkten $(4, f(4))$ är det 5 steg längs x-axeln. Alltså:

$$f_{\min}(4) = -5 + 5 \cdot 2 = 5 \text{ och } f_{\max}(4) = -5 + 5 \cdot 3 = 10$$

3128. a) $v(7) \approx \frac{38-21}{2} = 8.5 \text{ m/s}$

b)

Tid (s)	Sträcka (m)	$a = \frac{s}{t^2}$
6	21	0.58
8	38	0.59
10	60	0.6

$$\frac{s(7.1) - s(6.9)}{0.2} = \frac{a7.1^2 - a6.9^2}{0.2} \approx 8.3 \text{ m/s}$$

3129. $f(x) = 4x - x^2 = x(4 - x)$ dvs vertex i $x = 2$.

a) Om a ligger längre bort än 1 i.e. till höger om vertex blir $k < 0$. Dvs $x > 3$.

b) $a = 3$

c)

$$-2 = \frac{f(a) - 3}{a - 1} = \frac{4a - a^2 - 3}{a - 1} \Rightarrow 2 - 2a = 4a - a^2 - 3 \Rightarrow$$

$$a^2 - 6a + 5 = 0 \Rightarrow a = 3 \pm \sqrt{3^2 - 5} = \begin{cases} 1 \text{ falsk} \\ 5 \end{cases}$$

Test 3

1. a)

$$\lim_{x \rightarrow 5} \frac{x^2 - 25}{x - 5} = \lim_{x \rightarrow 5} \frac{(x + 5)(x - 5)}{x - 5} = \lim_{x \rightarrow 5} x + 5 = 10$$

b)

$$\lim_{h \rightarrow 0} \frac{(3+h)^2 - 3^2}{h} = \lim_{h \rightarrow 0} \frac{9 + 6h + h^2 - 9}{h} = \lim_{h \rightarrow 0} \frac{6h + h^2}{h} = \lim_{h \rightarrow 0} (6 + h) = 6$$

c)

$$\lim_{x \rightarrow \infty} \frac{20 + 0.98^x}{5} = 4$$

2. a)

$$y = x^5 - 4x^3 + 9x - 4 \Rightarrow y' = 5x^4 - 12x^2 + 9$$

b)

$$y = (5x - 1)(5x + 1) = 25x^2 - 1 \Rightarrow y' = 50x$$

3. a)

$$f(x) = 3x^3 - x^2 \Rightarrow f'(x) = 9x^2 - 2x \Rightarrow f'(4) = 9 \cdot 16 - 8 = 136$$

b)

$$f(x) = \frac{x^2}{4} - \frac{x^3}{6} \Rightarrow f'(x) = \frac{x}{2} - \frac{x^2}{2} \Rightarrow f'(4) = \frac{4}{2} - \frac{16}{2} = -6$$

c)

$$f(x) = 3x - 7 \Rightarrow f'(x) = 3 \Rightarrow f'(4) = 3$$

4. a) $f(0) = 3$

b) $f(2) = 1$

c) $f'(1) = 0$

d) $f'(2) \approx 3$

e) $f'(x) > 0$ då $1 < x < 3$

5. a) $f(x) = 5x^7 - 3x^4 + 10^2 \Rightarrow f'(x) = 35x^6 - 12x^3$

b) $g(x) = -0.5x^4 + 4x^2 - 5x + c^3 \Rightarrow g'(x) = -2x^3 + 8x - 5$

c) $h(u) = 8\sqrt{u} - u^{-2} + 2u^{1.3} \Rightarrow h'(u) = \frac{4}{\sqrt{u}} + 2u^{-3} + 2.6u^{0.3}$

6. $y(x) = x^3 - 6x + 2 \Rightarrow y'(x) = 3x^2 - 6 \Rightarrow y'(1) = -3$ punkten $(1, -3) \Rightarrow y = -3x$

7.

$$\lim_{h \rightarrow 0} \frac{3(1+h)^2 - 3 \cdot 1^2}{h} = \lim_{h \rightarrow 0} \frac{3 + 6h + 3h^2 - 3}{h} = \lim_{h \rightarrow 0} (6 + 3h) = 6$$

8. Punkterna är $(1, 5)$ och $(3, 9) \Rightarrow k = 2, f'(x) = 6 - 2x = 2 \Rightarrow x = 2, y = 8$

$$\text{dvs } y = 4 + 2x$$

9. $s(t) = 3t^2 + 5t \Rightarrow s'(t) = 6t + 5 \Rightarrow s(2) = 22$ m och $s'(2) = 17$ m/s

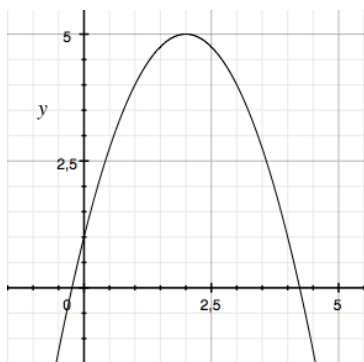
Efter 2 sekunder har föremålet rört sig 22 m och har hastigheten 17 m/s.

10. a) $f(x) = x^{99} \Rightarrow f'(x) = 99x^{98} \Rightarrow f'(-1) = 99$

b) $f(x) = (x - 3)^2 \Rightarrow f'(x) = 2(x - 3) \Rightarrow f'(-1) = -8$

c) $f(x) = 7x \Rightarrow f'(x) = 7 \Rightarrow f'(-1) = 7$

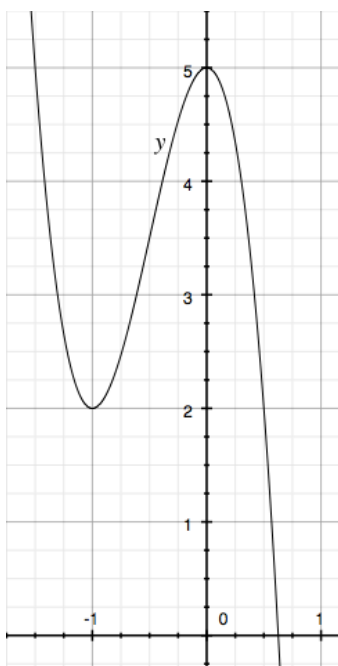
11. till exempel $g(x) = -x^2 + 4x + 1 \Rightarrow g'(x) = -2x + 4$



12.

$$y = ax^3 - 9x^2 + 5 \Rightarrow y' = 3ax^2 - 18x, y'(-1) = 3a + 18 = 0 \Rightarrow a = -6$$

$$y = -6x^3 - 9x^2 + 5, \text{växande då } -1 \leq x \leq 0$$



13. En inflexionspunkt betyder att funktionen stiger för $x < 5$ och för $x > 5$.
Derivatans tecken är alltså positiv utom då $x = 5$ då är $g'(x) = 0 \Rightarrow g''(5) = 0$.

14. a) Då $x = 0$ och $x = 3$.

b) När $x > 3$.

c) Då $x < 3$.

d) När $x = 0$ och $x = 3$.

$$15. h''(x) = 6x \Rightarrow h'(x) = 3x^2 + C_1 \Rightarrow h(x) = x^3 + C_1x + C_2$$

$$16. y'(x) = (x - 2)^2 \Rightarrow y(x) = \frac{1}{3}(x - 2)^3 + C$$

$$17. s(t) = 20t - 5t^2 \Rightarrow s'(t) = 20 - 10t$$

$$a) s'(1.5) = 5 \text{ m/s}$$

$$b) s(3) = 20 \cdot 3 - 5 \cdot 3^2 = 15 \text{ m}$$

$$c) s'(t) = 20 - 10t = 0 \Rightarrow t = 2 \text{ s}$$

$$d) s(2) = 20 \cdot 2 - 5 \cdot 2^2 = 20 \text{ m}$$

18. a)

$$V(p) = 50\,000p - 20p^2 - 80\,000 \Rightarrow V'(p) = 50\,000 - 40p = 0 \Rightarrow p = 1\,250 \text{ kr}$$

b)

$$V(1\,250) \approx 31 \text{ miljoner kr}$$

19.

$$m(t) = 4.5 \cdot t^{0.25} \Rightarrow m'(t) = 1.125 \cdot t^{-0.75} \Rightarrow m'(10) \approx 0.2 \text{ kg/min}$$

Ismassan växer med 0.2 kg/min vid tiden 10 minuter.

20. a)

$$y = \frac{x(14 - x)}{2}$$

$$b) 0 < x < 14$$

c)

$$y = \frac{x(14 - x)}{2} = \frac{1}{2}(14x - x^2) \Rightarrow y' = \frac{1}{2}(14 - 2x) = 0, x = 7$$

$$y_{max} = \frac{7(14 - 7)}{2} = 24.5 \text{ cm}^2$$

21. a)

$$A(x) = x \cdot (-0.5x + 4) \text{ a. e.}$$

b) $0 < x < 8$

c)

$$A(x) = -0.5x^2 + 4x \Rightarrow A'(x) = -x + 4 = 0 \Rightarrow x = 4$$

$$A(4) = 4 \cdot (-0.5 \cdot 4 + 4) = 8 \text{ a. e.}$$

22.

$$y = 8x - x^2 \Rightarrow y' = 8 - 2x = -2 \Rightarrow x = 5$$

$$y(5) = 8 \cdot 5 - 5^2 = 15 \Rightarrow (5, 15)$$

23.

$$N(x) = 40\,000 + 1\,000x + 200x^2$$

a)

$$N(3) = 40\,000 + 1\,000 \cdot 3 + 200 \cdot 3^2 = 44\,800 \text{ st}$$

b)

$$N(5) = 40\,000 + 1\,000 \cdot 5 + 200 \cdot 5^2 = 50\,000 \text{ st}$$

Ökning cirka 5 000 st.

c) Ökningen klockan 12 är:

$$N'(x) = 1\,000 + 400x, N'(3) = 1\,000 + 400 \cdot 3 = 2\,200 \text{ st/timme}$$

24.

$$f(x) = \begin{cases} x^2 & \text{för } x \leq 4 \\ x + C & \text{för } x > 4 \end{cases} \Rightarrow C = 12$$

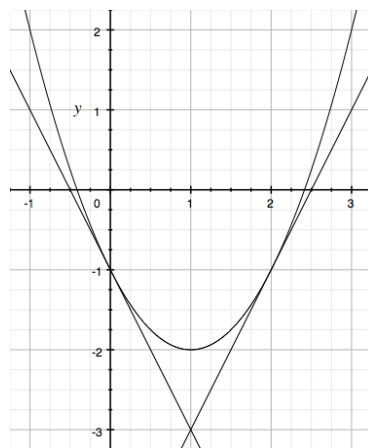
25.

$$y = x^2 - 2x - 1 \Rightarrow y' = 2x - 2$$

Den ena linjen går genom $(0, -1)$ och lutar $k = -2, y_1$.

Den andra går genom $(2, -1)$ och lutar $k = 2, y_2 = -5 + 2x$.

$$-1 - 2x = -5 + 2x \Rightarrow x = 1, y = -3$$



26.

$$V(r) = \pi r^2(6.4 - r) = \pi(6.4r^2 - r^3) \Rightarrow V'(r) = \pi(12.8r - 3r^2) = 0$$

$$r = \frac{12.8}{3} \approx 4.3 \text{ cm} \Rightarrow V_{\max} \left(\frac{12.8}{3} \right) = \pi r^2(6.4 - r) \approx 122 \text{ cm}^3$$

27.

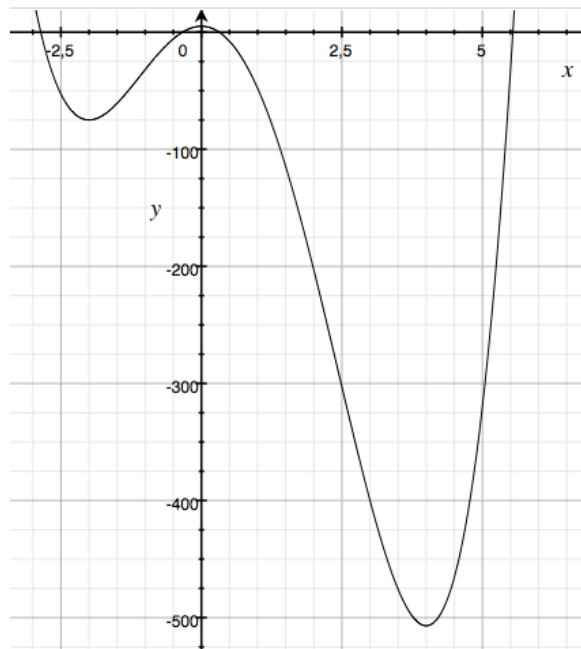
$$f(x) = 3x^4 - 8x^3 - 48x^2 + 5 \Rightarrow f'(x) = 12x^3 - 24x^2 - 96x = 12x(x^2 - 2x - 8) = 0$$

$$f'(x) = 12x(x - 4)(x + 2)$$

Största värde finns i gränsen $x = -3$. Minsta värdet i $x = 4$.

$$f(-3) = 3(-3)^4 - 8(-3)^3 - 48(-3)^2 + 5 = 32$$

$$f(4) = 3(4)^4 - 8(4)^3 - 48(4)^2 + 5 = -507$$



28. a)

$$f(x) = x^4 + 5$$

b)

$$f'(x) = 4x^3 \Rightarrow f'(3) = 4 \cdot 3^3 = 108$$

$$\text{Punkten är } (3, 86) \Rightarrow y = -238 + 108x$$

Blandade uppgifter

1. a) $y(5) = 3 \cdot 5^2 = 75^\circ \text{C}$

b) $\Delta y = y(5.1) - y(4.9) = 3(5.1^2 - 4.9^2) = 6^\circ \text{C}$

c) Den genomsnittliga temperaturförändringen vid 5 minuter är:

$$\frac{\Delta y}{\Delta x} = \frac{6}{0.2} = 30^\circ \text{C/minut}$$

2. a) $f'(x) = 32x^7 - 20x^3 + 17$

b) $g'(t) = -2t^3 + 6t - 7$

c) fel variabel i uppgiften $h'(x) = \frac{1}{\sqrt{x}} + 8x^{-5} + 3.4x^{0.7}$

3. a) $f'(0) = 2$

b) $f'(2) = 0$

c) $f'(4) = -2$

4. Växande (men inte strikt växande) för $x \leq 2$ och $x \geq 7$. Avtagande då $2 < x < 7$.

5. Terrasspunkt i $(-3, 4)$, lokalt max i $(2, 9)$ och lokalt min i $(7, 1)$.

6. a) $y(x) = 2x^4 - x^2 \Rightarrow y'(x) = 8x^3 - 2x = 2x(4x^2 - 1) = 2x(2x + 1)(2x - 1)$

Ett teckenschema visar:

	-1	-0.5	-0.25	0	0.25	0.5	1
x	-	-	-	0	+	+	+
$2x + 1$	-	0	+	+	+	+	+
$2x - 1$	-	-	-	-	-	0	+
$y'(x)$	-	0	+	0	-	0	+
riktning	\searrow	0	\nearrow	0	\searrow	0	\nearrow

$x = -0.5$ minpunkt, $x = 0$ maxpunkt, $x = 0.5$ minpunkt

b) $y(x) = 3x^2 \Rightarrow y'(x) = 6x \Rightarrow y''(x) = 6 > 0 \Rightarrow$ minpunkt

c) $y(x) = x^3 \Rightarrow y'(x) = 3x^2$

Ett teckenschema visar:

	-1	0	1
$y'(x)$	+	0	+
riktning	\nearrow	0	\nearrow

Dvs terrasspunkt.

$$d) y(x) = x^4 - x \Rightarrow y'(x) = 4x^3 - 1 = 0 \text{ då } x = 4^{-3} = \frac{1}{64}$$

Ett teckenschema visar:

$$\begin{array}{cccc} & 0 & 4^{-3} & 1 \\ y'(x) & - & 0 & + \\ \text{riktning} & \searrow & 0 & \nearrow \end{array}$$

$(0, 0)$ är inget lokalt max eller min. Minpunkten finns i $(4^{-3}, -0.02)$

$$7. N(t) = 2t^3 + 50$$

$$a) N(5) = 2 \cdot 5^3 + 50 = 300 \text{ bakterier}$$

$$b) \frac{dN(t)}{dt} = 6t^2 \frac{\text{bakterier}}{\text{minut}} \text{ dvs } \frac{dN(1)}{dt} = 6 \text{ bakterier/minut}$$

$$c) \frac{dN(5)}{dt} = 150 \frac{\text{bakterier}}{\text{minut}}$$

8. a) $y = 0$ i punkterna B och E.

b) $y'(x) = 0$ i punkterna C och F.

c) $y'(x) < 0$ i punkterna A och B.

$$9. a) y(x) = 12x - x^3 \Rightarrow y'(x) = 12 - 3x^2 = 0 \text{ då } x = \pm 2$$

Ett teckenschema visar:

$$\begin{array}{cccccc} & -3 & -2 & 0 & 2 & -3 \\ y' & - & 0 & + & 0 & - \\ \text{riktning} & \searrow & \rightarrow & \nearrow & \rightarrow & \searrow \end{array}$$

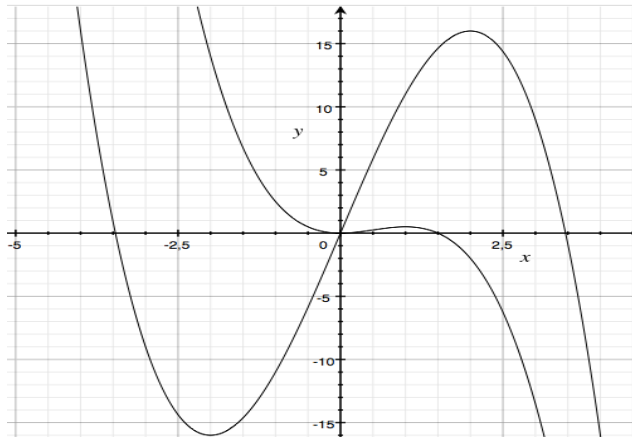
$x = -2$ ger ett lokalt minimum $(-2, -16)$ och $x = 2$ ger ett lokalt maximum $(2, 16)$

$$b) y(x) = 1.5x^2 - x^3 \Rightarrow y'(x) = 3x - 3x^2 = 3x(1 - x)$$

Ett teckenschema visar:

$$\begin{array}{cccccc} & -1 & 0 & 0.5 & 1 & 2 \\ y' & - & 0 & + & 0 & - \\ \text{riktning} & \searrow & \rightarrow & \nearrow & \rightarrow & \searrow \end{array}$$

$(0,0)$ är ett lokalt minimum, $(1, 0.5)$ är ett lokalt maximum



10. $y(x) = x^4 + x^3 + x^2 + x \Rightarrow y'(x) = 4x^3 + 3x^2 + 2x + 1$ och $y'(-1) = -2$
 Vilket betyder att $y(x)$ är avtagande då $x = -1$.

11. a) $g(1) = 3$ läses direkt i figuren

b) I punkten $(2, 4)$ finns en maxpunkt dvs $g'(2) = 0$.

c) Funktionen är strikt växande då $x < 2$.

d) $g'(x) < 0$ då funktionen är avtagande dvs då $x > 2$.

e) $g(x) = 0$ då $x = 0$ och då $x = 4$.

12. a) $f(x) = 12x - x^3 \Rightarrow f'(x) = 12 - 3x^2$ dvs $f'(x) = 0$ då $x = \pm 2$.

b)

$$f(x) = \frac{(x+2)(x-6)}{2} = \frac{1}{2}(x^2 - 4x - 12) \Rightarrow f'(x) = x - 2 = 0 \text{ då } x = 2$$

13. a) $f'(x) = 0$ då $x = 0$ och då $x = 4$.

b) $f(x)$ är strikt växande då $f'(x) > 0$ dvs då $0 < x < 4$.

14. a)

b) $g(2.1) \approx g(2) + k \cdot 0.1 = 3 + (-1) \cdot 0.1 = 2.9$

15. a) $g(-1) = 2$ läses direkt i figuren.

b) Linjens lutning verkar ha $k = -2$ dvs $g'(0) = -2$.

c) Vid $x = 1$ finns en minpunkt dvs $g'(1) = 0$.

16. $s(t) = 2t^2 - 12t + 25 \Rightarrow s'(t) = 4t - 12 = 0$ då $t = 3$

Gör en värdetabell där intervallets gränser och $t = 3$ ingår.

t	$s(t)$
2	9
3	7
5	15

Det största värdet är 15, det minsta 7.

$$17. f(x) = 3x^2 - ax \Rightarrow f'(x) = 6x - a, f'(2) = 6 \cdot 2 - a = -1 \Rightarrow a = 13$$

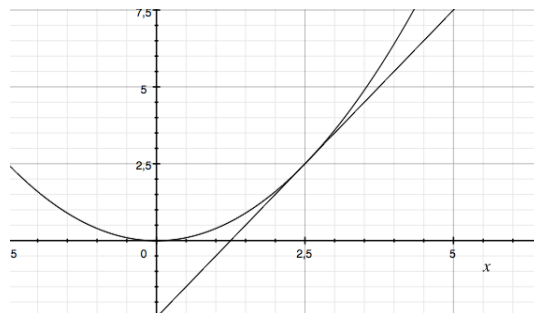
$$18. s(t) = t^3 - 120t^2 \Rightarrow s'(t) = 3t^2 - 240t, s'(t) = 0 \text{ då } 3t(t - 80) = 0$$

Gör en värdetabell där intervallets gränser och $t = 80$ ingår.

t	$s(t)$
0	0
80	-256 000
100	-200 000

Svar: Det största värdet är 0 och det minsta är -256 000.

19. $y(x) = 0.4x^2 \Rightarrow y'(x) = 0.8x, k = y'(2.5) = 2$ och punkten är $(2.5, 2.5)$ det ger linjen $y = 2x - 2.5$ som skär x-axeln i punkten $(1.25, 0)$.



20. a) $g'(x) = 0$ i punkterna B, D och F.

b) $g'(x) < 0$ i punkterna A och E.

c) Ja, $g(x)$ avtar då $g'(x) < 0$ i punkten A.

$$21. f(x) = ax^3 + x \Rightarrow f'(x) = 3ax^2 + 1, f'(2) = 3a \cdot 4 + 1 = 5 \Rightarrow a = \frac{1}{3}$$

$$22. y(x) = x^3 - 3x^2 + 3x \Rightarrow y'(x) = 3x^2 - 6x + 3 = 3(x - 1)^2$$

Dvs en terrasspunkt då $x = 1$, och dess koordinater är $(1, 1)$.

23. a) Klockan 23 är vattendjupet 2.3 m.

b) Klockan 23 stiger vattennivån med hastigheten 20 cm/timme.

c) Klockan 02:00 är vattendjupet 4 m men det stiger inte. När $y'' < 0$ byter y' tecken från + till -, dvs en maxpunkt.

$$24. y(x) = 3x^4 - 4x^3 + 2 \Rightarrow y'(x) = 12x^3 - 12x^2 = 12x^2(x - 1)$$

Terrasspunkten finns där derivatan har ett dubbelt nollställe dvs då $x = 0$. Punkten är $(0, 2)$.

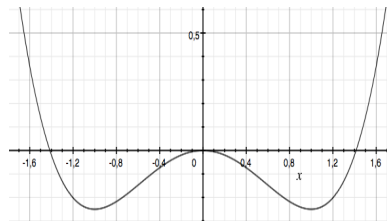
25.

$$y(x) = \frac{x^4}{4} - \frac{x^2}{2} \Rightarrow y'(x) = x^3 - x = x(x^2 - 1) = x(x + 1)(x - 1)$$

Gör ett teckenschema:

	-2	-1	-0.5	0	0.5	1	2
x	-	-	-	0	+	+	+
$x + 1$	-	0	+	+	+	+	+
$x - 1$	-	-	-	-	-	0	+
produkt	-	0	+	0	-	0	+
riktning	↘	→	↗	→	↘	→	↗

Svar: Fallande då $x < -1$, och då $0 < x < 1$ och växande då $-1 < x < 0$ och då $x > 1$.



$$26. y(x) = x^3 - 12x \Rightarrow y'(x) = 3x^2 - 12 = 0 \text{ då } x = \pm 2$$

Punkterna är $(-2, 16)$ och $(2, -16)$ dvs linjen blir $y = -8x$.

$$27. 6x + y - 3 = 0 \Leftrightarrow y = 3 - 6x \text{ och } y(x) = x^2 - 4x - 8 \Rightarrow y'(x) = 2x - 4$$

$$2x - 4 = -6 \text{ då } x = -1 \text{ dvs i punkten } (-1, -3)$$

28. a) När tillflödet varit längs tid dvs B.

b) Utflödet är störst i punkten C.

c) När utflödet pågått längst tid dvs D.

d) Högsta antal l/min dvs A.

$$29. h(t) = 24t^2 - t^3 \Rightarrow h'(t) = 48t - 3t^2 = 3t(16 - t) = 0 \text{ då } t = 0 \text{ och då } t = 16$$

$$\text{Maximal höjd blir } h(16) = 16^2(24 - 16) = 2048 \text{ m} \approx 2 \text{ km}$$

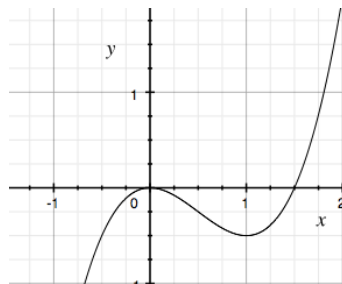
$$30. y(x) = x^3 - 1.5x^2 \Rightarrow y'(x) = 3x^2 - 3x = 3x(x - 1)$$

Gör ett teckenschema:

	-1	0	0.5	1	2
x	-	0	+	+	+
$x - 1$	-	-	-	0	+
produkt	+	0	-	0	+
riktning	↗	→	↘	→	↗

Vi ser att maxpunkten finns då $x = 0$ och dess koordinater är $(0,0)$.

Tangenten är linjen $y = 0$ den skär kurvan då $x^3 - 1.5x^2 = 0 \Rightarrow x = 1.5$ dvs i $(1.5, 0)$.



31.

$$\begin{aligned} \lim_{h \rightarrow 0} \frac{f(4+h) - f(4)}{h} &= \lim_{h \rightarrow 0} \frac{(4+h)^2 - 4^2}{h} = \lim_{h \rightarrow 0} \frac{16 + 8h + h^2 - 16}{h} = \\ &= \lim_{h \rightarrow 0} \frac{h(8+h)}{h} = 8 \end{aligned}$$

Derivatan av x^2 i punkten $x = 4$.

32. Kurvan kan skrivas som $f(x) = k(x-1)(x-2)$ där $k = 1.5$.

$$f(x) = 1.5x^2 - 4.5x + 3 \Rightarrow f'(x) = 3x - 4.5 \text{ dvs } f'(0) = -4.5$$

Tangentens ekvation är $y = 3 - 4.5x$ vilken skär x -axeln i punkten $(\frac{2}{3}, 0)$.

33. Kalla rektangelns sidor a och b , då gäller: $2a + b = 28$ och arean $A(a)$

$$A(a) = ab = a(28 - 2a) \text{ och } \frac{dA(a)}{da} = 28 - 4a = 0 \text{ då } a = 7 \Rightarrow A_{max} = 98 \text{ m}^2$$

34. $y'(x) = 3ax^2 + b = 0$ då $x = 1$ dvs $b = -3a$

$$a - 3a + 10 = -8 \Rightarrow a = 9 \text{ och } b = -27$$

35. Låt behållarens bottensida vara b , då gäller:

$$b^2 h = 27 \text{ och } k(b) = 500b^2 + 200 \cdot 4hb = 500b^2 + 27 \frac{800}{b} \Rightarrow$$

$$\frac{dk(b)}{db} = 1000b - 27 \frac{800}{b^2} = 0 \Rightarrow b = \sqrt[3]{27 \cdot 0.8} \approx 2.8 \text{ m}$$

$$k(\sqrt[3]{27 \cdot 0.8}) \approx 11\,600 \text{ kr}$$

36.

$$g(3) = 10, -1 \leq g'(x) \leq 1.2 \Rightarrow g(7) \geq 10 + 4(-1) = 6$$

37.

$$u(t) = at^2 + vt - \frac{c}{t} \Rightarrow \frac{du(t)}{dt} = 2at + v + \frac{c}{t^2} \Rightarrow \frac{d^2u(t)}{dt^2} = 2a - \frac{2c}{t^3}$$

38. Nollställena är $x = -4, x = 1$ och $x = 3$. m ligger mellan -4 och 1 dvs $m = -1.5$.

a) $y'(x) = 3x^2 - 13$ dvs $y'(-1.5) = -6.25$ och punkter $M = (-1.5, 28.125)$. Från m till linjen skär x -axeln är det sålunda: $28.125 - a \cdot 6.25 = 0 \Rightarrow a = 4.5$ steg i x -led.
 $-1.5 + 4.5 = 3$ VSV

b) $y'(2) = 3 \cdot 4 - 13 = -1$ och $y(2) = -6$ dvs linjen är $y_t(x) = 4 - x$
 Ja, ty $y_t(-4) = 4 - (-4) = 0$

c) $y'(-0.5) = 3 \cdot (-0.5)^2 - 13 = -12.25$ och $y(-0.5) = 18.375$ och då

$$-12.25 \cdot 1.5 + 18.375 = 0$$

kommer tangenten att skära x -axeln i nollstället $x = 1$.

39. Ta ett mindre intervall än 0.2 , till exempel 0.1 :

$$y'(x) \approx \frac{\sqrt{3 \cdot 2.05} - \sqrt{3 \cdot 1.95}}{2.05 - 1.95}$$

40. a)

$$y(x) = \sqrt{x} \Rightarrow y'(x) = \frac{1}{2\sqrt{x}}, \text{ dvs } y'(4) = \frac{1}{4} \Rightarrow k_{normal} = -4$$

Genom punkten $(2, 4) \Rightarrow y_{normal}(x) = 18 - 4x$

b) $y(x) = 0.2x^2 \Rightarrow y'(x) = 0.4x \Rightarrow k_{normal} = -\frac{2.5}{x}$ Tag en punkt $(h, 0.2h^2)$

Då blir normalen $\frac{-2.5}{h}$ och den skär y -axeln i punkten $(h, 2.5)$. Om h går mot noll blir punkten $(0, 2.5)$.

41. Plåten som går åt kan tecknas som:

$$A(r) = 2\pi r^2 + 2\pi r h$$

Där volymen $V = \pi r^2 h$ är konstant dvs $h = \frac{V}{\pi r^2}$.

$$A(r) = 2\pi r^2 + 2\pi r \frac{V}{\pi r^2} = 2\pi r^2 + 2\frac{V}{r}$$

$$\frac{dA(r)}{dr} = 4\pi r - 2\frac{V}{r^2} = 0 \text{ då } 4\pi r = 2\frac{V}{r^2} \Rightarrow r^3 = \frac{V}{2\pi} \Rightarrow r = \sqrt[3]{\frac{V}{2\pi}} \approx 4 \text{ cm, } h \approx 8 \text{ cm}$$

42.

$$f(x) = x^3 + cx^2 + x \Rightarrow f'(x) = 3x^2 + 2cx + 1$$

En terrasspunkt kräver att derivatan bara har ett nollställe dvs $3x^2 + 2cx + 1$ är en jämn kvadrat.

$$3x^2 + 2cx + 1 = 3\left(x^2 + \frac{2}{3}cx + \frac{1}{3}\right) = 3\left(x \pm \frac{1}{\sqrt{3}}\right)^2 \text{ och } \frac{c}{3} = \pm \frac{1}{\sqrt{3}} \text{ dvs } c = \pm\sqrt{3}$$

43. a)

$$f(x) = x^2 + 3 \Rightarrow f'(x) = 2x \Rightarrow f'(4) = 8$$

b)

$$\frac{f(4.05) - f(3.95)}{0.1} = 8$$

c)

$$\lim_{h \rightarrow 0} \frac{f(x+h) - f(x)}{h} = \lim_{h \rightarrow 0} \frac{(x+h)^2 - x^2}{h} = \lim_{h \rightarrow 0} \frac{x^2 + 2xh + h^2 - x^2}{h} = 2x$$

44.

$$k(\alpha) = \frac{V_{cyl}}{V_{klot}} = \frac{b \cdot h}{\frac{4}{3}\pi r^3} = \frac{3}{4\pi r^3} \pi r^2 \sin^2 \alpha \cdot 2r \cos \alpha = \frac{3}{2} \sin^2 \alpha \cos \alpha$$

$$k'(\alpha) = \frac{3}{2} (2 \sin \alpha \cos^2 \alpha - \sin^3 \alpha) = 0$$

$$2 \cos^2 \alpha = \sin^2 \alpha \Rightarrow \tan^2 \alpha = 2 \Rightarrow \alpha \approx 55^\circ$$

$$k_{max} = \frac{3}{2} \cdot \frac{2}{3} \cdot \frac{1}{\sqrt{3}} \approx 0.58$$

Bonusmaterial

a) Den första, andra, tredje gruppen osv borde kunna väljas som:

$$\begin{aligned} & \binom{18}{3} \binom{15}{3} \binom{12}{3} \binom{9}{3} \binom{6}{3} = \\ &= \frac{18 \cdot 17 \cdot 16}{1 \cdot 2 \cdot 3} \cdot \frac{15 \cdot 14 \cdot 13}{1 \cdot 2 \cdot 3} \cdot \frac{12 \cdot 11 \cdot 10}{1 \cdot 2 \cdot 3} \cdot \frac{9 \cdot 8 \cdot 7}{1 \cdot 2 \cdot 3} \cdot \frac{6 \cdot 5 \cdot 4}{1 \cdot 2 \cdot 3} = \\ &= 3 \cdot 17 \cdot 16 \cdot 5 \cdot 7 \cdot 13 \cdot 2 \cdot 11 \cdot 10 \cdot 3 \cdot 4 \cdot 7 \cdot 5 \cdot 4 \approx 1.4 \cdot 10^{11} \end{aligned}$$

olika sätt.

b) Alltså, av de 6 grupperna skall 4 innehålla ett ess. Detta borde kunna ske på:

$$\binom{6}{4} = \binom{6}{2} = \frac{6 \cdot 5}{1 \cdot 2} = 15$$

olika sätt.

Delas svaret i a) med b) fås antalet möjliga gruppkonstellationer.